

ВСЕРОССИЙСКАЯ ОЛИМПИАДА ШКОЛЬНИКОВ

ПО искусству (МХК)

МУНИЦИПАЛЬНЫЙ ЭТАП

" 7 " декабре 2020 г.

ШИФР 8002

ОЛИМПИАДНАЯ РАБОТА

УЧЕНИца 8 КЛАССА

Астайский район

(наименование муниципалитета)

МБОУ АООШ № 3

(наименование образовательной организации)

Шитилова Татьяна Андреевна

(Фамилия Имя Отчество участника)



Учитель участника по предмету: Вередкина Я. М.

Номер задания/ субтест	1	2	3	4	5	6	Итого
Баллы	3	13	12	11	10	17	66

Председатель жюри: 

Мячина Е. Ч

Члены жюри:

Вередкина Я. М.

ФИО

Судбошина Т. Н.

ФИО

ФИО

ФИО

668.

8 0 0 2

7-8 классы

**ВСЕРОССИЙСКАЯ ОЛИМПИАДА ШКОЛЬНИКОВ  
МУНИЦИПАЛЬНЫЙ ЭТАП 2020-2021 УЧ.ГОД**

Мировая художественная культура  
Время выполнения 3 часа.

Внимательно познакомьтесь с заданиями. Выполняя задания, обосновывайте выбор решения или своё мнение в тех случаях, когда это необходимо. Каждое задание включает несколько вопросов, постарайтесь ответить на все. Помните, что оцениваются ваша эрудиция, глубина и логичность вашей аргументации, ваше умение видеть проблему с разных сторон, полнота знаний. Старайтесь указывать полностью имена авторов произведений. При выполнении заданий не забывайте о необходимости соблюдать правила орфографии и пунктуации.

**Задание 1.**

**Найдите лишнее слово в ряду. Кратко обоснуйте выбор.**

1. Геракл, Ясон, Ахилл, Посейдон, Одиссей, Персей.

Не бог из всех. (Все остальные являются Боги).

- 0

2. Аполлон, Зевс, Гера, Гермес, Афродита, Аид, Гефест, Деметра.

Покровитель кузнечного искусства, а не Бог.

- 0

3. И.С. Бах, Ф. Шопен, А. Моцарт, И.К. Айвазовский, П.И. Чайковский, И. Ф. Стравинский

Один из переключенных художник.

10

4. «Лебединое озеро», «Щелкунчик», «Спящая красавица», «Жизель», «Кармен»

Из всех переключенных одна Опера.

20

= 30

**Задание 2.**

1. Что объединяет следующие памятники МХК: Пирамида Хеопса, Висячие сады Семирамиды, Статуя Зевса в Олимпии, Храм Артемиды в Эфесе, мавзолей-храм в Галикарнасе, Колосс Родосский, Александрийский маяк. 7 чудес света. 10

2. Верно ли указано географическое расположение памятников?

Пирамида Хеопса в Иране да/нет Нет. ✓ 20

Висячие сады Семирамиды в Ираке да/нет Да. ✓ 20

Статуя Зевса в Турции да/нет Нет ✓ 20

Храм Артемиды в Афинах в Греции да/нет Нет ✓ 20

мавзолей-храм в Галикарнасе в Италии да/нет Да. —

Колосс Родосский в Болгарии, Александрийский маяк во Франции да/нет Нет; Нет. — + 20

3. Каково назначение сооружения. - Цетория. 05.

4. Что вы знаете об этих памятниках?

Все 7 памятников относится к чудесам света.  
Пирамида Хеопса - находится в Египте. Первая из чудес света. Самая крупная из всех египетских пирамид. Внутри пирамиды находится 3 погребальные камеры. Расположены одна над другой. 20

= 135.

**Задание 3.**

Дана фотография фрагмента знаменитого памятника:

1. Определите по фрагменту название памятника и его автора?

"Родина мать зовёт" - Вукетич. 20

2. В каких годах происходят события, которым посвящён памятник?

1941 г. (Точная дата не определена). 05.


3. Где находится данный памятник? Волховград. 105.

4. Опишите, какими средствами скульптор достигает определённого настроения.

Средствами знания анатомии лица, монументальностью.

05.

= 125



#### Задание 4.

1. Соотнесите произведение и автора (Стрелками).

2. Дайте краткое определение жанру, к которому относятся все эти произведения.

Портрет - изображение внешнего образа человека.

3. Приведите еще по одному примеру произведений указанных авторов.

<i>еще пример произведения</i>	<i>стрелки соответствия</i>	
1. Даша е уриво- тама. 15	→	1. Леонардо да Винчи 15
2. Насленица. 10	→	2. Б. Кустодиев 15
3. Портрет Мими Морозова 10	→	3. В. Серов 15
4. Всадница. 10	→	4. К. Брюллов 15
5. Молодежь 15	→	5. Ян Вермеер Делфтский 15

2. 10/5


Задание 5. Отметьте правильные утверждения (в правой колонке напротив утверждения поставьте «да» или «нет»). В неправильных - исправьте ошибки.

1	Возрождение, или Классицизм — имеющая мировое значение эпоха в истории культуры Европы, пришедшая на смену Средним векам и предшествующая Просвещению и Новому времени.	Да.	0,5
2	Андрей Рублев стал <del>первым</del> художником-россиянином, причисленным к лику святых <del>христианской</del> церковью <u>православной.</u>	Нет	0,5
3	Болдинская осень — это самый плодотворный и продуктивный период в творческой жизни <del>М.Ю. Лермонтова</del> , когда он оказался в какой-то степени затворником в Большом Болдино. Находясь в этом имении в 1830 г. из-за <u>повсеместного объявления о холерном карантине.</u> ↓ <u>А.С. Пушкин.</u>	Нет.	2 + 2,5
4	Эрмитаж в Санкт-Петербурге является самой большой картинной галереей в <del>мире</del> <u>России.</u>	Нет.	0,5
5	Музей Лувра — один из крупнейших и самый популярный художественный музей мира.	Да.	2,5
6	Софийский Собор, построенный при Ярославе Мудром, имел 10 куполов	Да.	0,5
7	<del>Останкинская</del> башня — самое высокое сооружение в России <u>Федерация.</u>	Нет.	0,5
8	Хрущёвки — панельные (кирпичные) пятиэтажные дома в нашей стране названы по фамилии руководителя КПСС	Да.	2,5
9	<del>Исаакиевский Собор</del> в Санкт-Петербурге — самый крупный в мире православный храм ↓ <u>Собор святого Исаии.</u> ?!	Нет.	2,5
10	Доменико Андреа Трезини — один из главных строителей Санкт-Петербурга. Его гению принадлежат Зимний дворец, Большой дворец в Царском Селе, Смольный монастырь и Большой Петергофский дворец.	Да.	0,5

= 10,5.

**Задание 6. Рассмотрите и проанализируйте картину И. Репина «Бурлаки на Волге». В своем анализе отразите следующие моменты:**

1. Опишите общую композицию работы и функции изображенных на ней фигур.
2. Назовите значимые запоминающиеся детали, их символическое значение.
3. Определите общее настроение картины.
4. Напишите, что Вам известно об истории создания картины и о ее сюжете.
5. Какие ещё картины этого художника Вы знаете? Назовите 2 картины И. Репина.



5. Запоротцы, Иван Грозный и еще его.

1. На картине изображена группа изможденных людей, которые с великим трудом тащут к берегу баржу.
2. Уставшие люди - трудные брашна в то брашна.
3. Настроение - сочувствие и грусть, телания пошлеь этим людям.
4. Репин познакомился с бурлаками в 1870 г., а через 3 года картина была завершена.

Итого:

665

150  
+ 2  
152